

CLASE 1
GUÍA DE APOYO AL APRENDIZAJE
2° AÑO BÁSICO

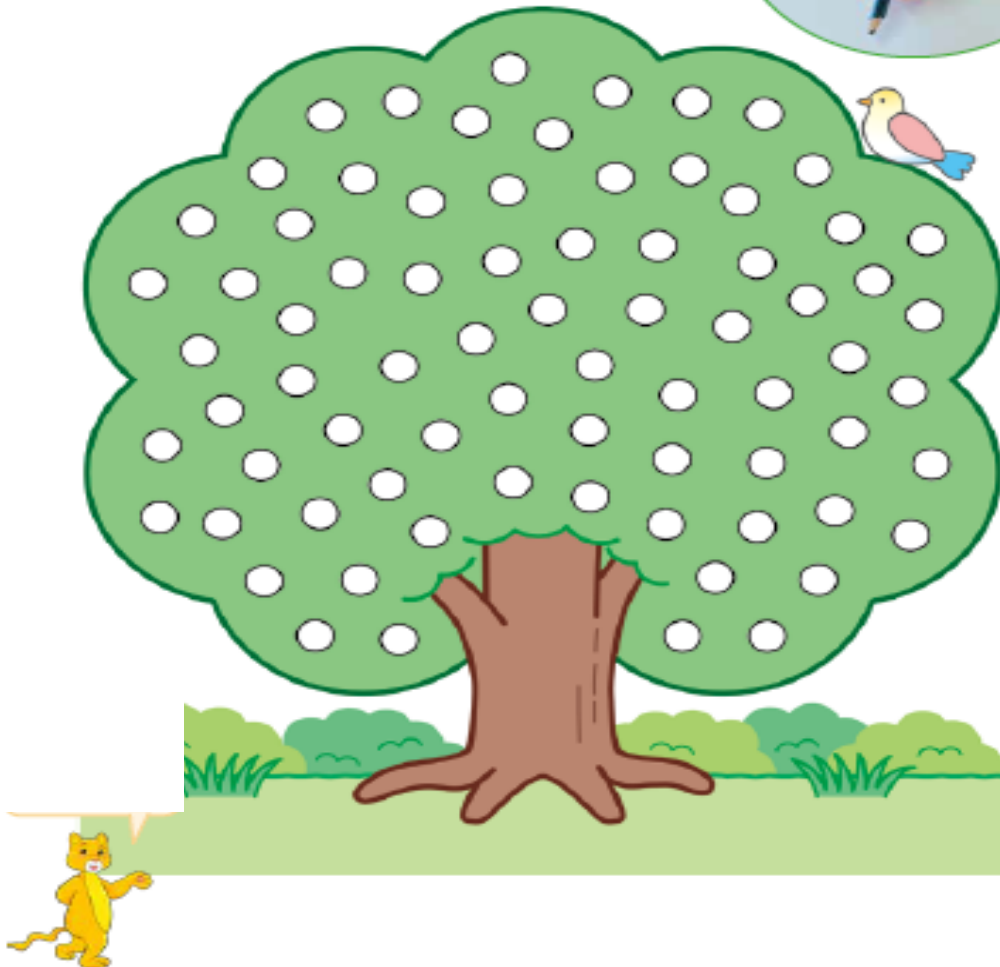
Valores Institucionales: Compañerismo, tolerancia y responsabilidad.

Estudiante:		Fecha:	
Objetivo de Aprendizaje:	Cuantificar colecciones utilizando distintas estrategias		

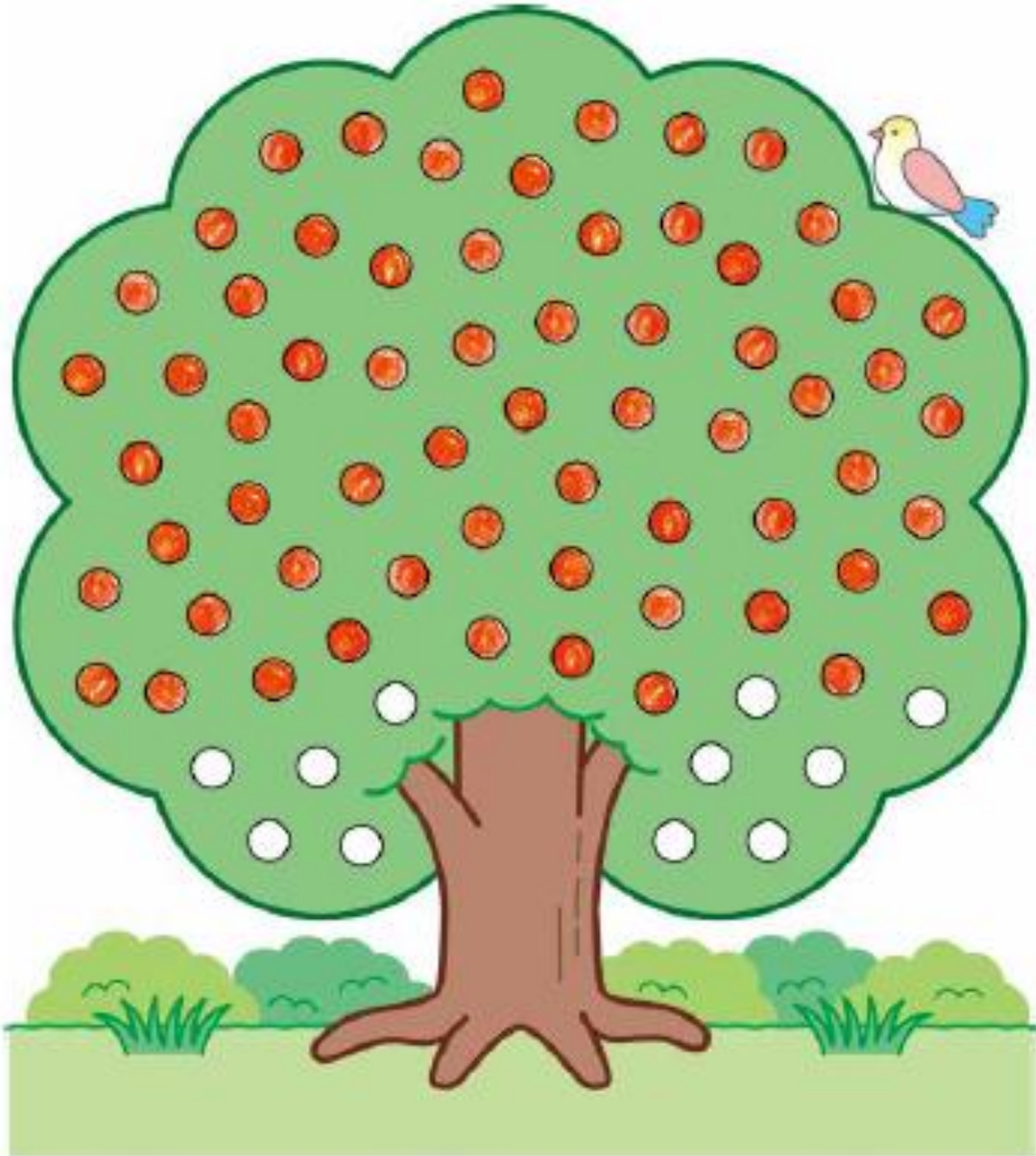
1 **Números hasta 100**

Contando hasta 100

¿Cuántos puntos alcanzas a pintar?



1 Javiera pintó los puntos en el dibujo. ¿Cuántos puntos pintó?



CLASE 2
GUÍA DE APOYO AL APRENDIZAJE
2° AÑO BÁSICO

Valores Institucionales: Compañerismo, tolerancia y responsabilidad

Estudiante:		Fecha:	
Objetivo de Aprendizaje:	Representar números hasta 100 usando unidades y decenas		

DÍA 2: REPASAMOS LAS DECENAS Y UNIDADES

1. ¿Cuántos cubos hay?

Decenas	Unidades	Decenas	Unidades	Decenas	Unidades
<input type="text"/>	<input type="text"/>	<input type="text"/>	<input type="text"/>	<input type="text"/>	<input type="text"/>

2. ¿Cuántos hay?

	<input type="text"/> lápices.		<input type="text"/> papeles.
--	-------------------------------	--	-------------------------------

3. Completa:

- 8 decenas y 4 unidades son:
- 7 decenas son:
- 6 decenas y 2 unidades son:
- 5 decenas y 9 unidades son:

Representa cada número dibujando **decenas** (barras) y **unidades** (cubos)

58	→	
93	→	
60	→	

Une los números con sus representaciones



	42
	89
<div style="border: 1px solid black; padding: 5px; width: fit-content;">TENGO 8 DECENAS Y 9 UNIDADES.</div>	63
	52

CLASE 3
GUÍA DE APOYO AL APRENDIZAJE
2° AÑO BÁSICO

Valores Institucionales: Compañerismo, tolerancia y responsabilidad


Estudiante:		Fecha:	
Objetivo de Aprendizaje:	Experimentar y comprender la formación del número 100		

Cuántas estampillas hay.



10 grupos de 10 unidades → 100

Ejercicio

- a) 10 sobres de 10 láminas es igual a láminas.
- b) 10 monedas de  es igual a pesos.

4

Números hasta 100

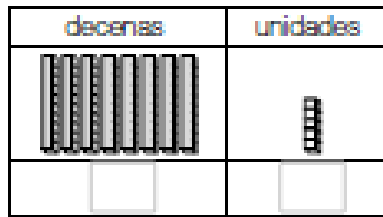


Pág. 5
Pág. 7



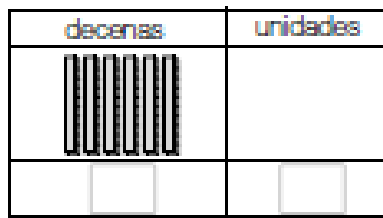
5
minutos

1 ¿Cuántos cubos hay?



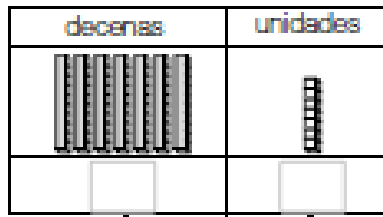
unidades.

2




unidades.

3



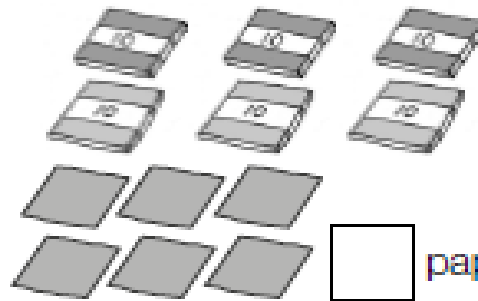
unidades.

4 ¿Cuántos hay?



lápices.

5 ¿Cuántos papeles lustre hay?



papeles.

6 Completa.

- a) 9 decenas y 4 unidades son:
- b) 7 decenas y 8 unidades son:
- c) 6 decenas son:
- d) 8 decenas y 2 unidades son:
- e) 9 decenas y 5 unidades son: