



TAREA SEMANA 4


Asignatura:	Matemática
Docente:	Liliana González Rodríguez
Semana:	4
Objetivo de la clase:	Comparar números hasta el 100

Los signos = > y <

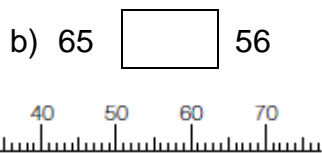
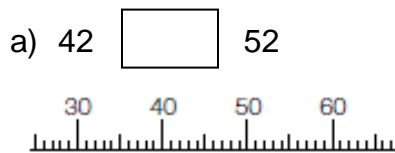
1. Escribe los signos > o < según corresponda. Sigue el ejemplo del ejercicio a)

a)  6 1

b)  20 24

c)  5 5

2. Escribe los signos > o < Ubica los números que salen en el ejercicio en la recta numérica remarcando la línea que le corresponde a cada uno.



3. Escribe los signos > o < según corresponda.

a) 20 30

b) 32 23

c) 5 50

SOLUCIONARIO

Asignatura:	Matemática
Docente:	Liliana González Rodríguez
Semana:	4
Objetivo de la clase:	Comparar números hasta el 100

Respuestas

1	a) > b) < c) =
2	a) < b) >
3	a) < b) > c) <