

Tarea de refuerzo de matemáticas PIE 2020

Asignatura:	Matemáticas
Docente:	Priscilla Reyes Zúñiga Ed diferencial
Semana:	27 al 30 abril
curso	2 básico
Objetivo de la clase:	Calcular sumas.

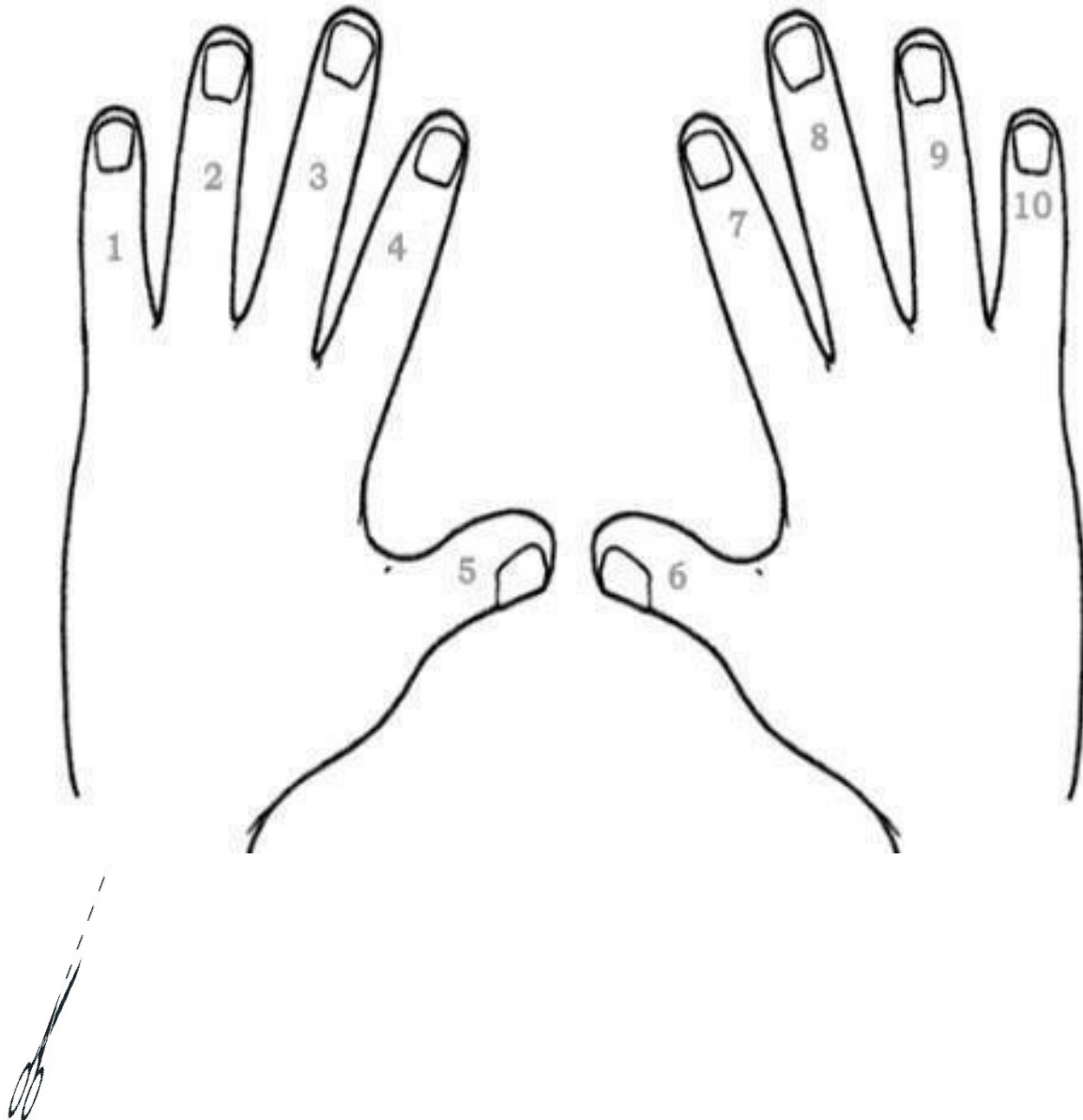
INSTRUCCIONES

- ❖ Trabaja con ayuda de un adulto
- ❖ Usa solo lápiz mina
- ❖ Realiza un trabajo limpio y ordenado

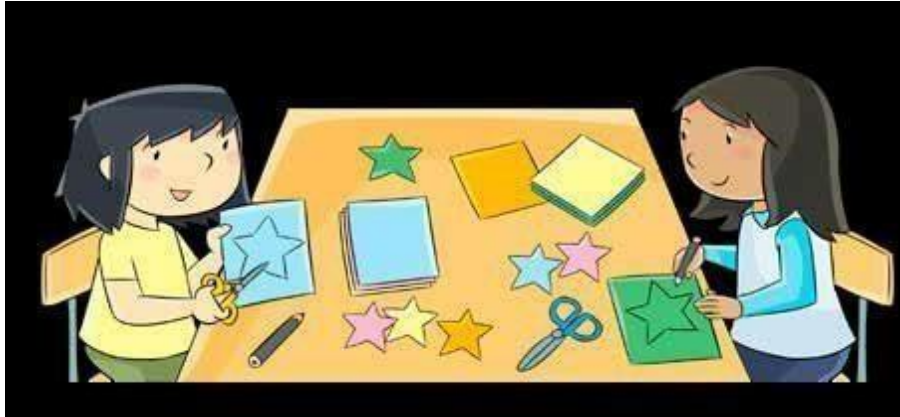


➤ **Material recortable**

Para realizar la siguiente actividad debes pintar las manos como tú quieras y luego recórtalas.



1. Observa la imagen: Marisol, recorto 5 estrellas y Anita recorto 4 estrellas



- ❖ Utiliza las manitos que recortaste para realizar el ejercicio, como en el ejemplo.



¿Puedes calcular cuántas recortaron en total?


- Inténtalo y registra en el rectángulo tu resultado

- Para realizar las siguientes actividades vamos a conocer los números múltiplos de 10.

Observe el video antes de realizar la siguiente actividad.


<https://www.youtube.com/watch?v=9KkeA7TPJqE>

2. Ahora tu cuenta las argollas de 2 en 2.



¿Cuántos anillos hay en total?
Anota el resultado en el rectángulo.

3. Cuenta los caracoles de 2 en 2.



¿Cuántos anillos hay en total?
Anota el resultado e



4. Resuelve las siguientes sumas.

puedes apoyarte en las manos que recostaste.

$$\begin{array}{r} + 4 \\ \hline + 3 \end{array}$$

$$\begin{array}{r} + 3 \\ \hline + 3 \end{array}$$

$$\begin{array}{r} + 3 \\ \hline + 4 \end{array}$$

$$\begin{array}{r} + 9 \\ \hline + 1 \end{array}$$

$$\begin{array}{r} + 5 \\ \hline + 2 \end{array}$$

$$\begin{array}{r} + 3 \\ \hline + 2 \end{array}$$

$$\begin{array}{r} + 2 \\ \hline + 2 \end{array}$$

$$\begin{array}{r} + 4 \\ \hline + 1 \end{array}$$

$$\begin{array}{r} + 1 \\ \hline + 1 \end{array}$$

$$\begin{array}{r} + 8 \\ \hline + 1 \end{array}$$

$$\begin{array}{r} + 1 \\ \hline + 5 \end{array}$$

$$\begin{array}{r} + 1 \\ \hline + 8 \end{array}$$

$$\begin{array}{r} + 6 \\ \hline + 1 \end{array}$$

$$\begin{array}{r} + 7 \\ \hline + 1 \end{array}$$

$$\begin{array}{r} + 8 \\ \hline + 2 \end{array}$$

$$\begin{array}{r} + 6 \\ \hline + 4 \end{array}$$



FORMAMOS A ESTUDIANTES DE MANERA INTEGRAL

*Colegio Augusto
D'Halmar*

CORPORACIÓN MUNICIPAL DE RANCAGUA