

TAREA DE REFUERZO MATEMATICAS PIE 2020

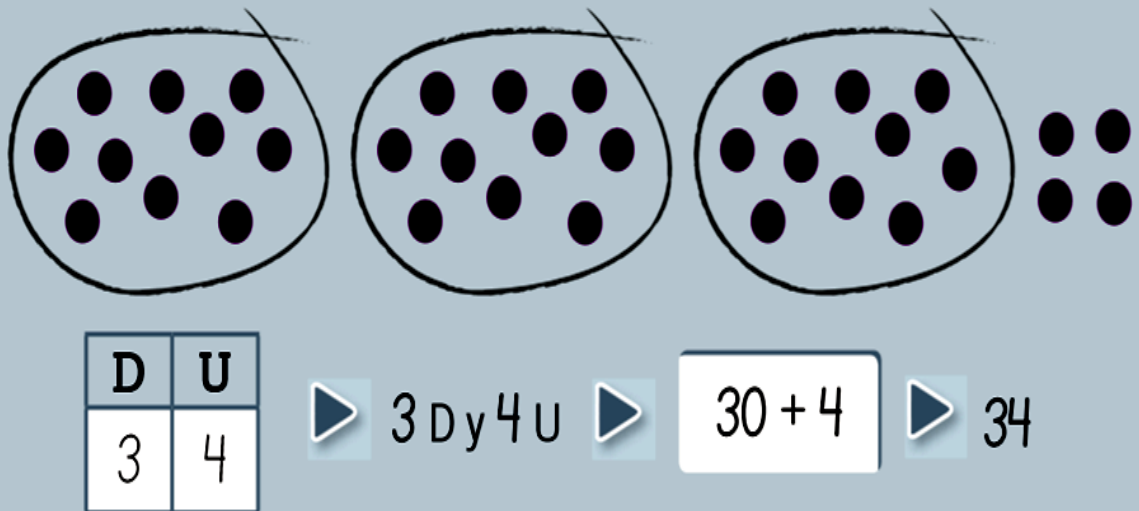
Asignatura:	Matemáticas
Docente diferencial :	Priscilla Reyes Zúñiga
Semana:	15 (06 al 10 julio)
curso	2 básico
Objetivo de la clase:	Demostrar que comprende la adición en el ámbito del 0 al 100 Resolviendo problemas con una variedad de representaciones concretas y pictóricas, de manera. OA9

INSTRUCCIONES:

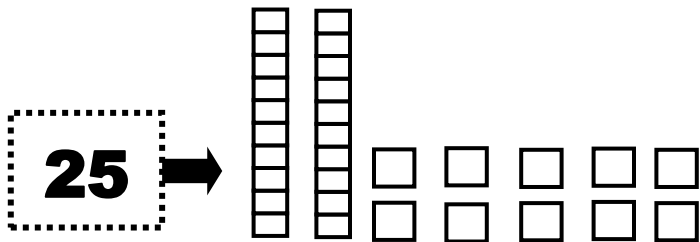
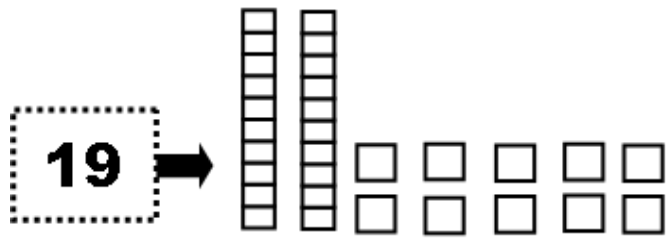
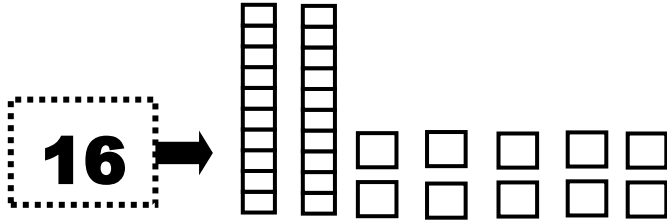
- Trabaja con ayuda de un adulto
- Usa solo lápiz mina
- Realiza un trabajo limpio y ordenado



Un número se puede **descomponer** según el **valor posicional** de sus cifras.



1.-Pinta con **ROJO** la decena y con **AZUL** las unidades para representar la cantidad indicada



2.-Encierra grupos de 10 para contar. Luego, escribe la cantidad de que hay en cada caso, y el número de decenas y unidades.

a.

➔ D y U

b.

➔ D y U

c.

➔ D y U

3.-Resuelve los siguientes problemas en tu cuaderno:

a.- Felipe está recolectando hojas de diferentes árboles. El lunes juntó 12 y el resto de la semana juntó 44 más. ¿Cuántas hojas recolectó durante la semana?

b.- Rosita tiene varios conejos en su casa y su hermana chica le sacó 4, por lo que ahora solo tiene 15. ¿Cuántos conejos tenía Rosita?