

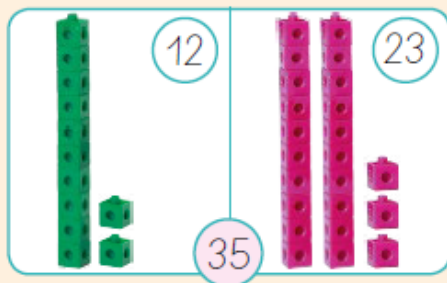
GUÍA DE APOYO AL APRENDIZAJE

Curso:	3° Básico
Asignatura:	Matemática
Docente:	Dalia Espinosa Bascur
Semana:	30 de marzo al 03 de abril
Objetivo de la clase:	Demostrar que comprende la familia relación entre adición y sustracción, usando la familia de operaciones.

Familia de operaciones

Conozco

Una **familia de operaciones** está formada por 2 adiciones y 2 sustracciones que tienen los mismos 3 números. Puedes utilizarla para comprobar el resultado de estas 2 operaciones. Por ejemplo:



$$12 + 23 = 35$$

$$35 - 12 = 23$$


$$23 + 12 = 35$$

$$35 - 23 = 12$$

Ejemplo:

Escribe las familias de operaciones representadas.

a.



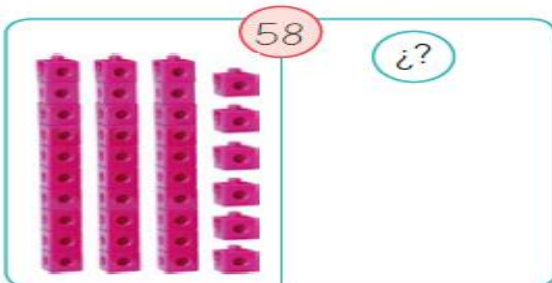
$$24 + 25 = 49$$

$$25 + 24 = 49$$

$$49 - 24 = 25$$

$$49 - 25 = 24$$

b.



$$\square + \square = \square$$

$$\square + \square = \square$$

$$\square - \square = \square$$

$$\square - \square = \square$$