

TAREA DE REFUERZO MATEMATICAS PIE 2020

Asignatura:	Matemáticas
Docente Diferencial:	Valery Martínez Torres
Semana:	N°14 (30 de junio al 03 de julio)
Objetivo de la clase:	Construir, leer e interpretar pictogramas, de acuerdo a información recolectada o dada manifestando un estilo de trabajo ordenado y metódico.

Instrucciones:




- ✓ Estimado estudiante, desarrolla la tarea en tu cuaderno de matemáticas, primero escribe el objetivo de la clase.
- ✓ Lee comprensivamente, piensa, luego resuelve y responde.
- ✓ Usa solo lápiz mina. Realiza un trabajo limpio y ordenado.
- ✓ La tarea la debes fotografiar y enviar para ser revisada al correo valery.martinez@colegio-augustodhar.cl con nombre completo y curso **en el asunto** del mensaje, o por vía WhatsApp.



Debes leer y realizar las actividades que aparecen en la **guía de apoyo al aprendizaje** antes de comenzar esta tarea.

Observa los siguientes pictogramas y responde:

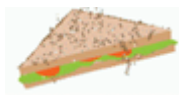
1. Rocío pregunta a sus amigos por el sabor de helado que más les gusta. Cuenta las marcas para saber la cantidad. **Escribe el número total de preferencias.**

HELADO	CONTEO	TOTAL
 CHOCOLATE		
 VAINILLA		
 FRUTILLA		
TOTAL		

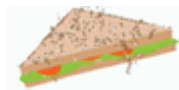
2. El 3° básico del colegio Augusto D'Halmar realizara una convivencia, por lo que hicieron una encuesta para saber que prefería comer cada estudiante.

Comida para la convivencia		
Comida	Niños	Niñas
	6	7
	9	6
	3	10

- a) ¿Cuántos niños en total votaron en la encuesta? _____
 b) ¿Cuántas niñas en total votaron en la encuesta? _____
 c) ¿Cuál fue la opción **menos** votada por **los niños**? Marca la opción correcta.




- a) ¿Cuál fue la opción **mas** votada por **las niñas**? Marca la opción correcta.



SOLUCIONARIO

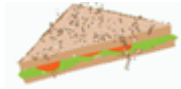
Asignatura:	Matemática
Semana:	14 (30 junio al 03 de julio).
Objetivo de la clase:	Construir, leer e interpretar pictogramas, de acuerdo a información recolectada o dada manifestando un estilo de trabajo ordenado y metódico.

1. Rocío pregunta a sus amigos por el sabor de helado que más les gusta. Cuenta las marcas para saber la cantidad. **Escribe el número total de preferencias.**

HELADO	CONTEO	TOTAL
 CHOCOLATE		10
 VAINILLA		7
 FRUTILLA		6
TOTAL		23

2. encuesta de convivencia

- d) ¿Cuántos niños en total votaron en la encuesta? **18 niños**
 e) ¿Cuántas niñas en total votaron en la encuesta? **23 niñas**
 f) ¿Cuál fue la opción **menos** votada por **los niños**? Marca la opción correcta.



- b) ¿Cuál fue la opción **más** votada por **las niñas**? Marca la opción correcta.

