

Asignatura:	Matemáticas
Docente:	Claudia González Montecinos
Semana:	Semana N° 9
Curso:	6° básico
Objetivo de la clase:	Resolver multiplicaciones de números decimales, aplicándolo en situaciones de la vida cotidiana.

Instrucciones:

- ✓ Lee atentamente cada información y no olvides copiar la tarea en tu cuaderno y poner la fecha correspondiente.
- ✓ Si tienes la guía impresa puedes pegarla en tu cuaderno, de lo contrario realiza la actividad en el cuaderno de matemáticas y responde cada ejercicio.
- ✓ El uso del lápiz mina es importante para tu trabajo.
- ✓ Debes realizar un trabajo ordenado y limpio.



NUMEROS DECIMALES

1. Para comenzar esta actividad vamos a recordar la multiplicación de decimales. Te recuerdo que puedes observar tu guía de la clase anterior semana N° 8. Puedes usar tu texto escolar de la página 55 y 56, también revisar estos videos donde se explica detalladamente.

[https://www.youtube.com/watch?v=shXj-YCWWeM&t=58s,](https://www.youtube.com/watch?v=shXj-YCWWeM&t=58s)

<https://www.youtube.com/watch?v=of-6a9RZXfs&t=136s>

<https://www.youtube.com/watch?v=MzzKzYYVJhI>

2. Resuelve los siguientes ejercicios de aplicación

a) Completa la siguiente tabla

X	10	100	1000
0,23	02,3		
1,34			
245,67			
32,765			
0.54			
0,765			







b) Resuelve.
 $0,7 \cdot 6$

Representación grafica	Representación simbólica
------------------------	--------------------------

c) $2,345 \cdot 100$

Valor posicional	Representación simbólica
------------------	--------------------------

3. Luego de resolver los ejercicios de aplicación, debes recordar lo siguiente para resolver los problemas que vienen a continuación.

			
Leo bien el enunciado y la pregunta, subrayo los datos y la pregunta	Organizo los datos y pienso en un plan.	Pongo en práctica el plan y realizo las operaciones .	Escribo la solución . Reviso y compruebo

4. Observa los siguientes videos de cómo resolver situación problemática.

- <https://www.youtube.com/watch?v=gkRdcLfELxg>,
- <https://www.youtube.com/watch?v=JHIWkK0ufzA>

5. Luego de comprender los pasos para resolver las situaciones problemáticas debes resolver los siguientes ejercicios N° 7 de la página 58 y 59 (**letras A- B- E- F- I**)

SOLUCIONARIO

Asignatura:	Matemáticas
Docente:	Claudia González Montecinos
Semana:	Semana N° 9
Objetivo de la clase:	Resolver multiplicaciones de números decimales, aplicándolo en situaciones de la vida cotidiana.

❖ Ejercicios N° 7 páginas 58 y 59

- a) Demora: 100,56 segundo.
- b) La temperatura es de: 14,31 °c
- e) contienen 0,375 kg.
- f) Quedaron 15,25 litros de bebida.
- i) Se fabrican 9,75 metros de guirnaldas.

